




(iv) پاکستان کی اہم فصلوں کے نام لکھیں۔

(v) مویشیوں سے ہم کیا حاصل کرتے ہیں؟

SECTION-III

(3) سوال نمبر 1۔ (الف) نیچے دی گئی تصویروں کو پہچانیں اور ان کے نام لکھیں۔



(4) (ب): دیئے گئے الفاظ کی مدد سے خالی جگہ پُر کریں۔

تیل	چرا	کپڑا	گندم
-----	-----	------	------

(i) کسان _____ اُگاتا ہے۔

(ii) سورج ٹمکھی کی فصل سے گھی اور _____ بنتا ہے۔

(iii) دھاگے سے فیکٹری میں _____ بنتا ہے۔

(iv) مویشیوں کی کھال _____ بنانے کے لیے استعمال کی جاتی ہے۔

کل نمبر: 25 واقفیت عامہ (دوم) ٹیسٹ نمبر 6 وقت: 30 منٹ

چوتھا مہینا، پہلا ہفتہ، چھٹا دن

سلیبس: ذہرائی ٹیسٹ سلیبس (پہلا ہفتہ)

SECTION-I

(4) سوال نمبر 1۔ (الف): درج ذیل میں سے درست جواب کے گرد دائرہ کا نشان لگائیں۔

(i) ایک زرعی ملک ہے:

(الف)	چین	(ب)	امریکہ	(ج)	افغانستان	(د)	پاکستان
-------	-----	-----	--------	-----	-----------	-----	---------

(ii) روئی بنتی ہے:

(الف)	گندم سے	(ب)	کپاس سے	(ج)	گنے سے	(د)	یہ تمام
-------	---------	-----	---------	-----	--------	-----	---------

(iii) گنے کس سے بنتی ہے:

(الف)	گر	(ب)	چینی	(ج)	مٹھائی	(د)	(ل) اور (ب) دونوں
-------	----	-----	------	-----	--------	-----	-------------------

(iv) مویشی پالتا ہے:

(الف)	دیکل	(ب)	بڑھی	(ج)	کسان	(د)	ڈاکٹر
-------	------	-----	------	-----	------	-----	-------

(4) (ب): کالم (الف) کو کالم (ب) سے ملائیں۔

کالم (الف)	کالم (ب)
پاکستان کی زیادہ تر آبادی رہتی ہے	دھاگا
ایک اہم فصل ہے	دودھ سے
دہی، بکھن، پنیر اور گھی بنتا ہے	دیہات میں
روئی سے بنتا ہے	کپاس

SECTION-II

سوال نمبر 1۔ درج ذیل سوالات کے مختصر جواب لکھیں۔

(5x2=10)

(i) پاکستان کے لوگ زیادہ تر کس پیشے سے منسلک ہے؟

(ii) سورج ٹمکھی کی فصل سے کیا بنایا جاتا ہے؟

(iii) گندم سے کیا بنتا ہے؟